



RG-BoardMate-B V2.0

2

2.1

	PC
	WEB
	APP

--	--



2.4

2.4.1 APP


>

2.4.2

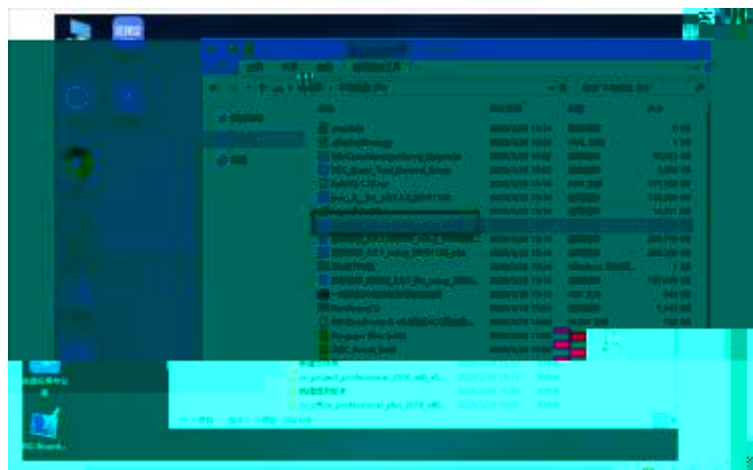


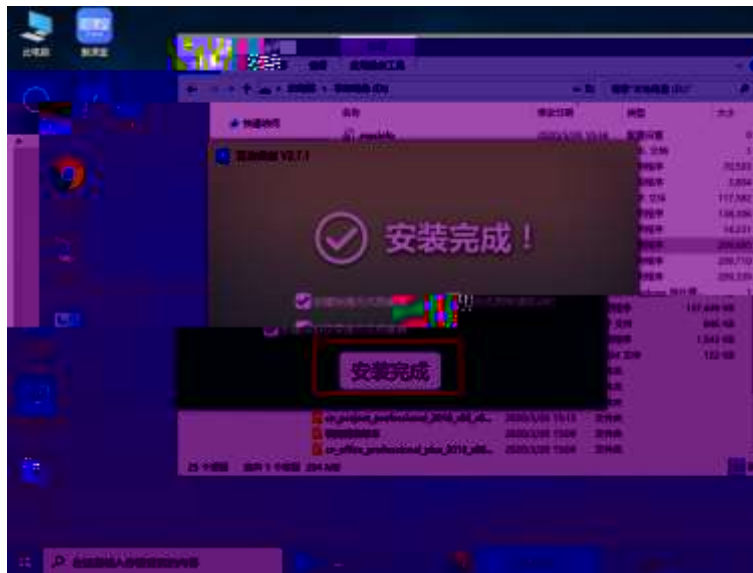
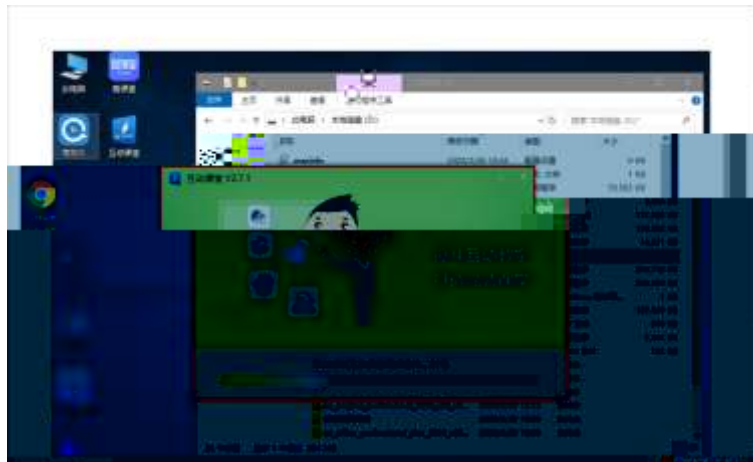
2.5

2.5.1



2.5.2

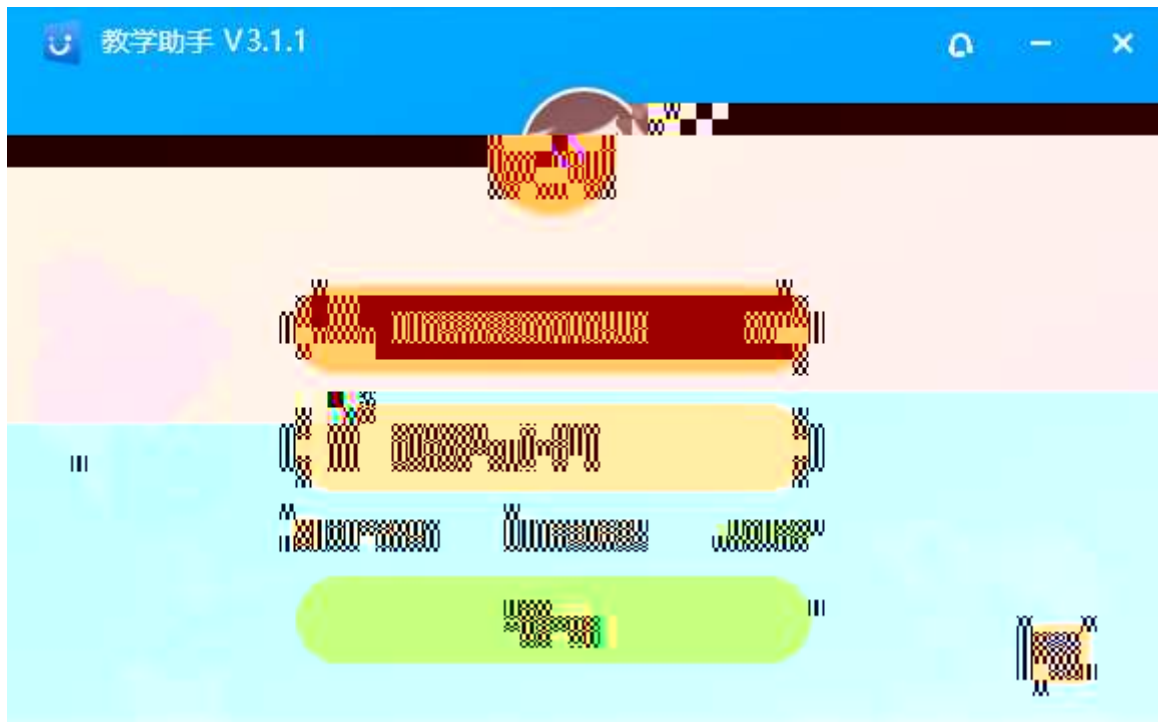




3 PC

3.1

3.1.1



3.1.2

3.2

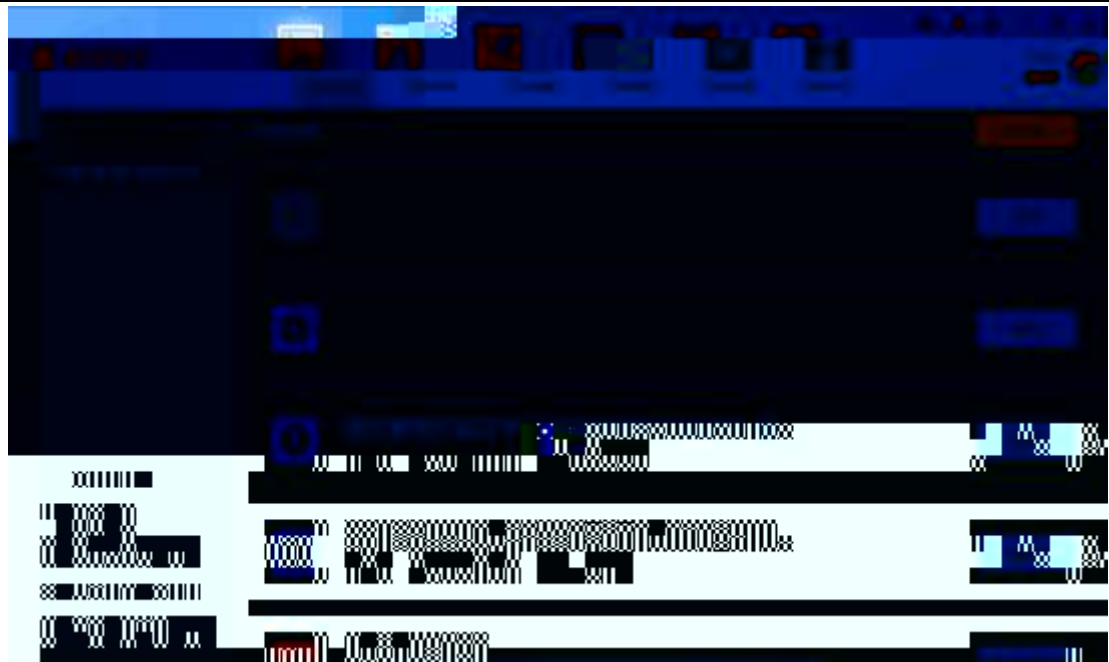
3.2.1

3.2.2

3.2.3

3.3

3.3.1



3.3.1.1




3.3.1.2


3.3.1.3



3.3.1.4

3.3.1.5

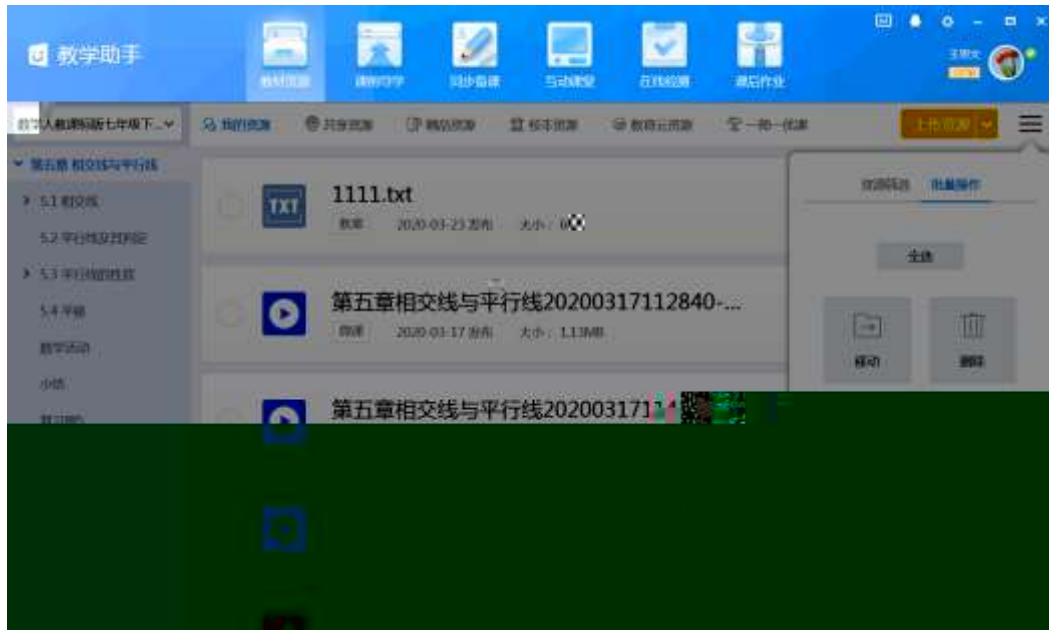




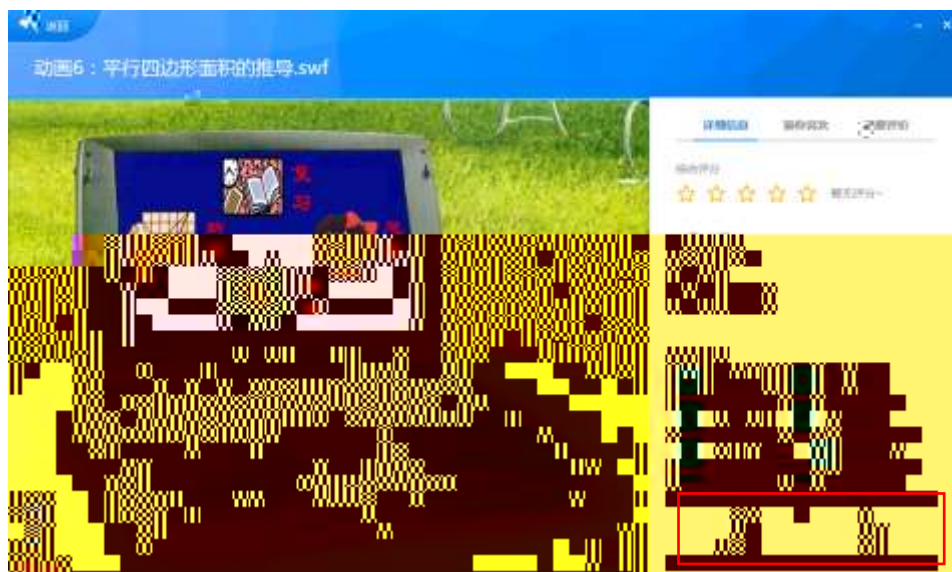
3.3.1.6



3.3.1.7 /



3.3.2



3.3.3




3.3.4



3.3.5

3.4

3.4.1.5



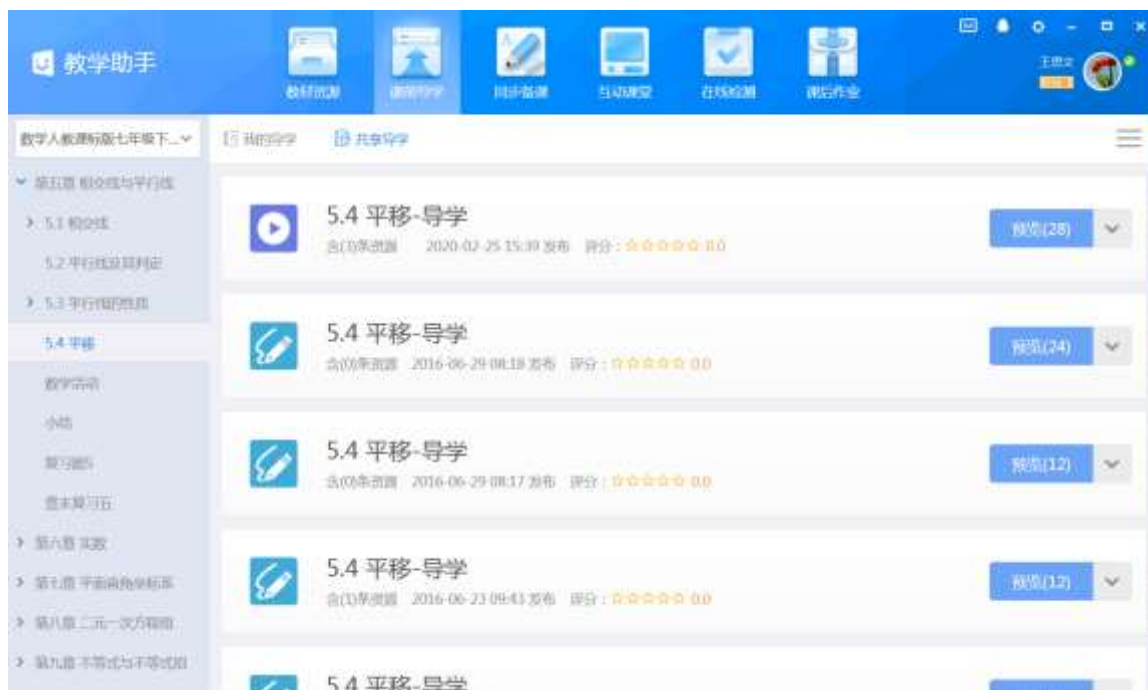
3.4.1.6



3.4.1.7



3.4.2



3.5

3.5.1



3.5.1.3 PPT




3.5.1.4

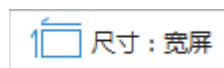
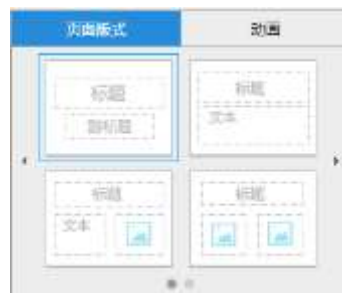
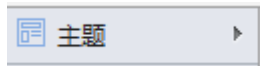


3.5.1.5

3.5.1.7





3.5.1.7.1



3.5.1.7.2

3.5.1.7.5



3.5.1.7.6



3.5.1.7.7



3.5.1.7.8



3.5.1.7.9



The interface includes a central grid of mathematical symbols: $\frac{\square}{\square}$, \square^\square , \square^\square , $\sqrt{\square}$, $\sqrt[\square]{\square}$, $\sqrt[\square]{\square}$, $\sqrt{\square}$, $\{\square\}$, $[\square]$, $\langle \square \rangle$, $\sin \square$, and $\cos \square$.

On the right, there are two dropdown menus labeled "公式结构" and "公式模板". Below them are two input fields: "圆周长" with the formula $C = 2\pi r$ and "正方形周长" with the formula $C = 4a$.

3.5.1.7.11

3.5.1.7.12

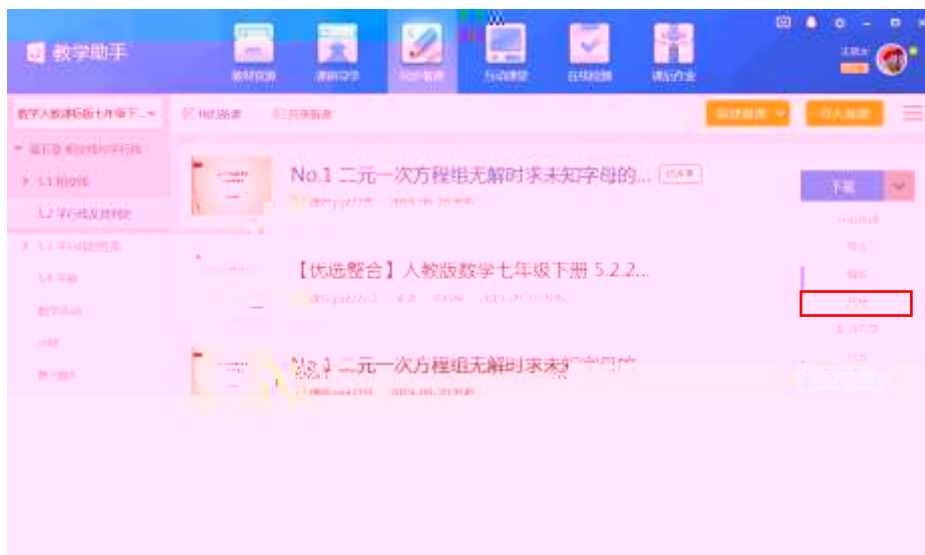
3.5.1.8.1

3.5.1.8.2

3.5.1.8.5



3.5.1.9



3.5.1.10



3.5.1.11 /

3.5.2

将下列食物进行分类。

					
---	---	---	---	--	---

蔬菜	水果

3.6

3.6.1





3.6.1.3



3.6.2

3.6.2.1

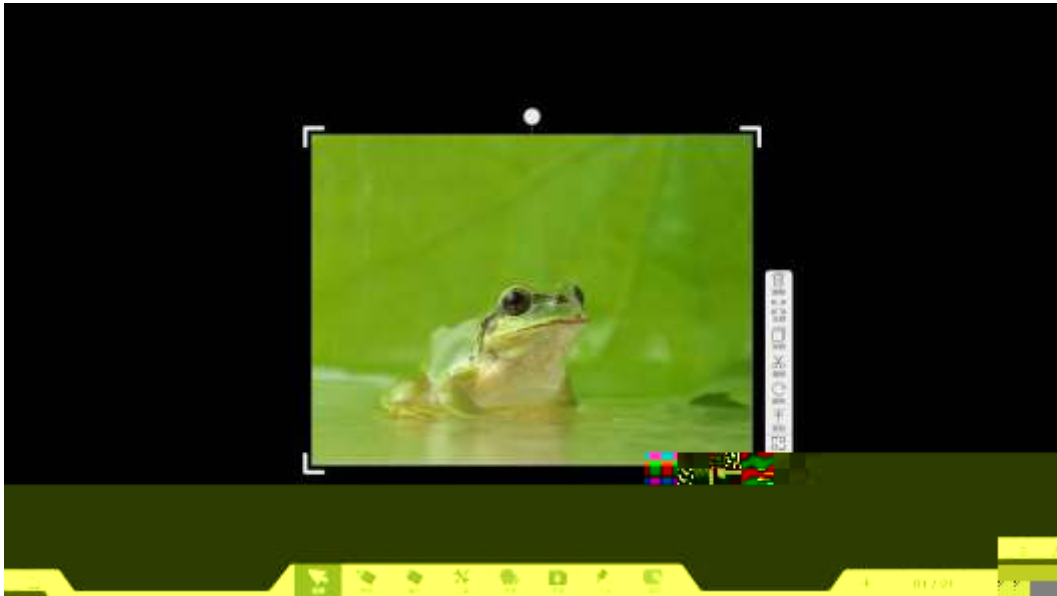
3.6.2.2

3.6.2.2.1



3.6.2.2.2 /





3.6.2.2.3





3.6.2.2.4






3.6.2.2.5









A floating window for a timer application. At the top right are minus and close buttons. Below them are two tabs: '正计时' (Normal Timing) and '倒计时' (Countdown). The main display shows a digital clock reading '03:00' with four plus signs above the digits. A yellow semi-transparent bar is positioned below the display, containing a play button and a small icon.







随写板



3.6.2.2.6

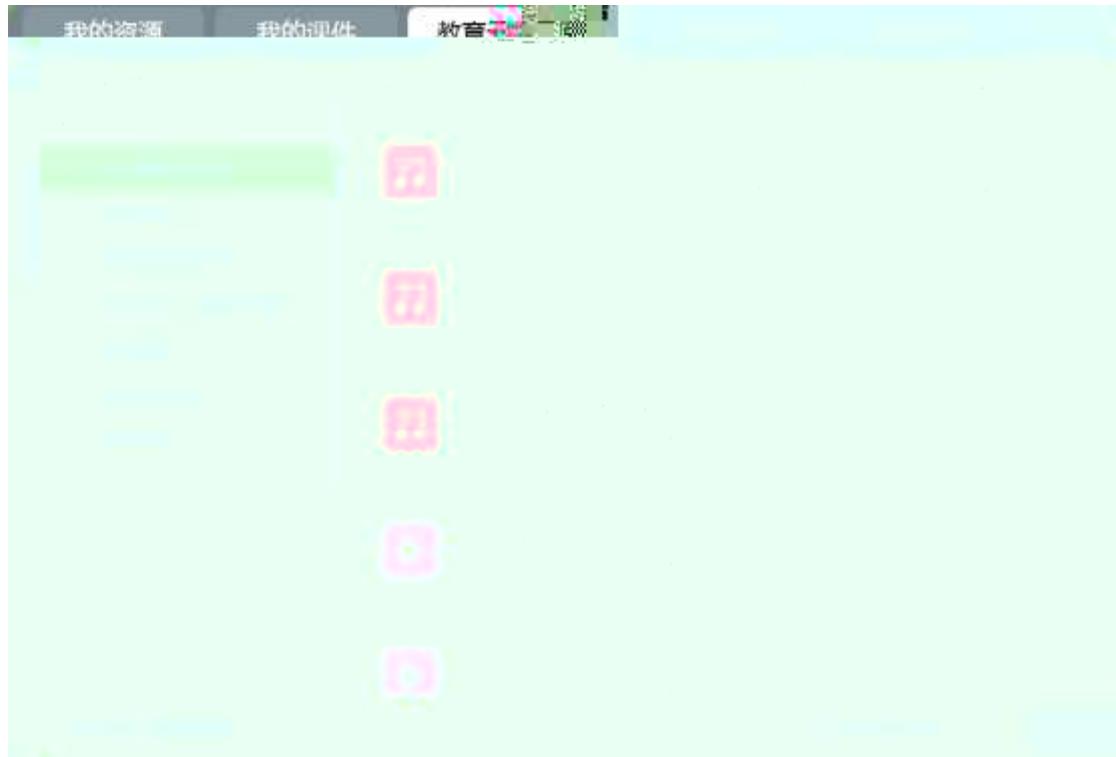


录课





3

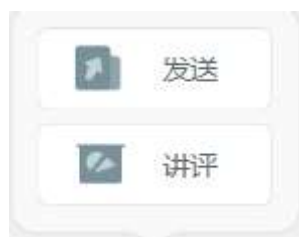


4





3.6.2.2.8



3.6.2.2.9



3.6.2.2.10



3.6.2.2.11



3.6.2.2.12

3.6.2.2.13

3.7

3.7.1



3.7.1.1



快速组卷

高中语文 - 教师出题 试卷出题 章节出题 知识点出题 智能组卷 学情组卷

精品题库 (5) 联考版) - 高中 - 全部 中考真题 文言文阅读 现代文阅读 默写 名著阅读 语言文字应用 作文 单选题 多选题 语言表述 填空题

第一单元 - 全部 古诗 记叙 一般 说明 应用

1. 林教头风雪山神庙

2. 李广子射虎

3. 1. 过秦论

写作 命题作文

阅读下面的材料，按要求作文。

一个男孩在路边，专注地盯着一种说不出名字的种子，捧了它好几天回家。“爸爸，那是种子吗？”孩子问他的爸爸。

父亲认真地想了一会儿，说：“那是一种叫‘希望’的种子，它开出的花叫‘理想’。孩子，你撒下种子，那孩子就像一朵美丽的花儿。”

请以上材料为话题，写一篇不少于800字的文章，题目自拟，立意自定，文体不限。

要求：①自选角度，立意明确，材料在文中恰当使用。

第二单元

第三单元

第四单元

名著导读

模块总复习

检测评价卷

在下面一段文字横线处补写恰当的语句，使整段文字语意完整连贯，内容贴切，逻辑严密，每处不超过15个字。

“不忘初心，方得始终”是《共产党宣言》中的名句，更是中国共产党人百年征程中的信念。事实上，①_____，因为“高尚者实践，高尚者播种”，人们自然期待他们，如同期待：“我们走得再远，以家为记了为什么出发。”②_____，③_____，而正因为那个个人再也不是那个个人了，正因为这样，才敢他们在国际舞台上，也都把初心丢掉了，初心难寻，是因为迷失，也是因为对初心遗忘，但也正因为难寻，也_____。

要求：①自选角度，立意明确，材料在文中恰当使用。

第四单元

名著导读

在下面一段文字横线处补写恰当的语句，使整段文字语意完整连贯，内容贴切，逻辑严密，每处不超过15个字。

①《红楼梦》是我国古代文学史上被誉为“一部千古不变的珠玉”的长篇小说。

②它从文学巨著小说《红楼梦》的作者。

③小说描写了贾宝玉与林黛玉的爱情悲剧。

④小说通过对贾府兴衰的描写，反映了封建社会的黑暗和腐朽。

查看试卷

选卷组卷

高中数学 - 教辅选卷 试卷选卷 章节选卷 知识点选卷 智能组卷 学情组卷

黑龙江省哈尔滨师大附中2016年高三第四次联合模拟考试数学

试卷名称 试卷来源 试卷

题号	题分	分值
单选题	4	0
解答题	0	0
总分	24	0

试卷难度结构


难度	题数	分值
基础	0	0.0%
中等	1	4.2%
一般	3	12.5%
较难	1	4.2%

已知中垂线 $AM \perp BC$ 于 M , $\angle B = 45^\circ$, $\angle C = 30^\circ$, $BC = 2$.

$A(x+2)$
 $B(x+1 \leq x < 2)$
 $C(x|0 \leq x < 1)$
 $D(x|0 < x \leq 1)$

已知 $\cos \alpha = -\frac{1}{2}$, α 是第三象限角, $\sin(\alpha + \frac{\pi}{2}) =$

$A. -\frac{\sqrt{3}}{2}$
 $B. \frac{\sqrt{3}}{2}$
 $C. -\frac{\sqrt{3}}{2}$
 $D. \frac{\sqrt{3}}{2}$



The screenshot displays the '题库组卷' (Question Bank) interface. At the top, there are navigation tabs: '高中数学', '教师选题', '套餐选题', '章节选题', '知识点选题' (selected), '智能组卷', and '学情组卷'. Below these, a '选择知识点' (Select Knowledge Point) section is visible, with a '集合' (Collection) dropdown menu. The main area contains a grid of question cards, each with a '难度' (Difficulty) indicator and a '知识点' (Knowledge Point) label. A search bar and a '共 1000 道' (Total 1000 questions) indicator are also present. The interface is clean and modern, with a blue header and a light green background for the question cards.

选题组卷

选择知识点

已选知识点

数与式

方程与不等式

函数

图形的性质

图形的变换

统计与概率

已选知识点

题型设置

单选题

填空题

解答题

判断题

多选题

试卷总题数(题目): 题目总数不能超过100题

题型	数量	操作
单选题	1	删除
填空题	2	删除

难度设置

难度系数 - 合理区间为0.25-0.75

出题

生成试卷

选题组卷

初中数学

教辅选卷

真题选卷

章节选卷

知识点选卷

智能组卷

学情组卷

知识点智能组卷

章节智能组卷

选择章节

已选章节

题型设置

单选题

填空题

解答题

判断题

多选题

试卷总题数(题目): 题目总数不能超过100题

题型	数量	操作
单选题		
填空题		
解答题		
判断题		
多选题		

难度设置

难度系数 - 合理区间为0.25-0.75

出题

生成试卷

第一单元-阅读-2 济南一日游检测

44

单选题 (总分14分, 暂无注释)

14分

1. (2分) 下面画线的词语意思相同的一项是 ()

- A. 在鱼群的嬉戏中, 他像鱼儿一样自由自在地游来游去。
- B. 她高昂的斗志, 鼓舞着人们把困难的口号落实到实际中。
- C. 月光洒在野径上, 显得格外幽静。
- D. 那辆小汽车真是件典型的“洋垃圾”。

单选题

14分

选出画线词语解释正确的一项 ()

2. (2分) 那么清爽, 那么幽雅恬静, 整个的景物空灵的境界真。

- A. 透明清爽
- B. 不可捉摸
- C. 十分灵巧
- D. 空旷灵巧

总分 14 分 平均分

1 2 分

2 2 分

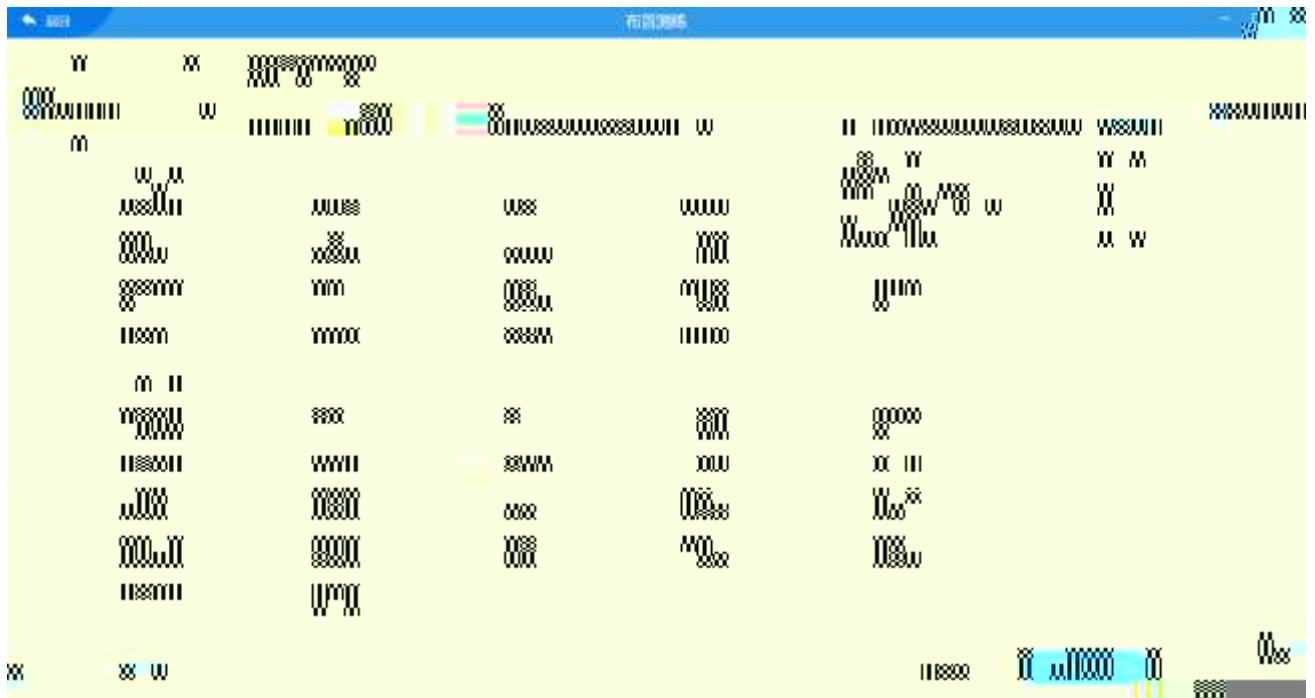
3 2 分

保存试卷

温馨提示：您当前试卷总分为 **87** 分，是否确定保存？

试卷名称

3.7.1.3



3.7.1.4



" "

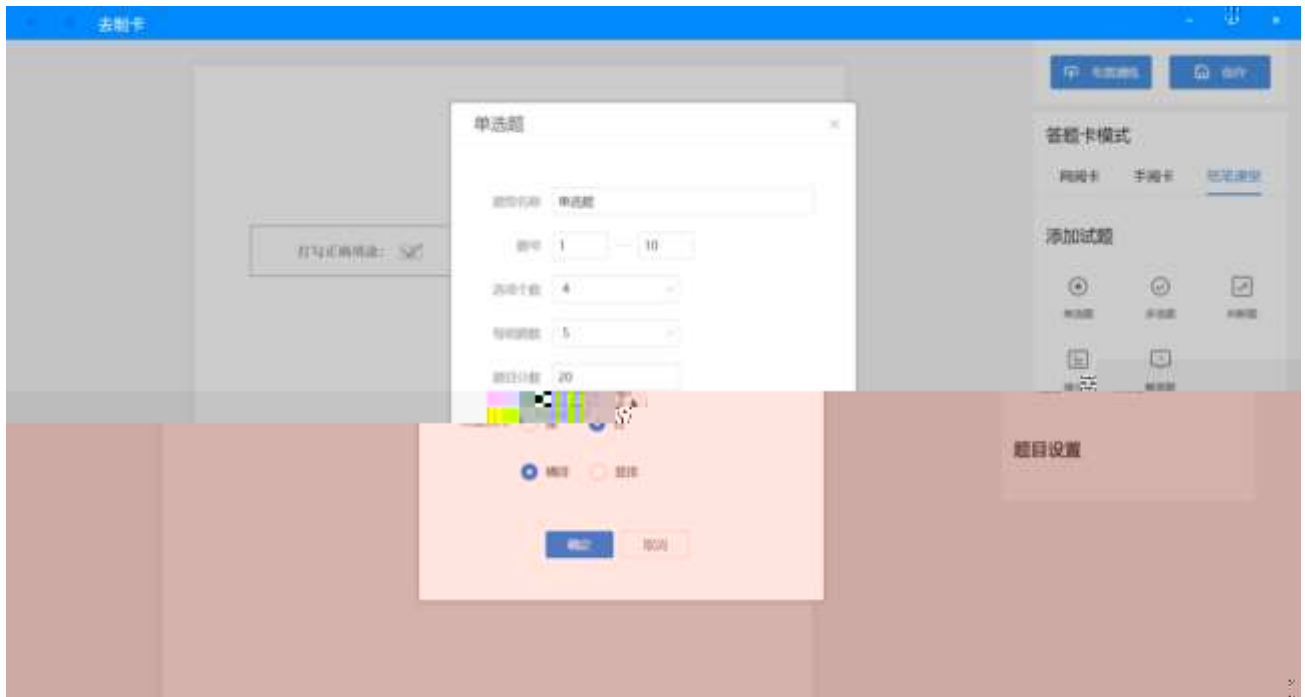


3.7.2



3.7.2.1

3.7.2.1.1



3.7.2.2



3.7.2.6

3.7.3



3.7.3.1

3.7.3.1.1

3.7.3.1.2

在线考试试卷191108101608

2019-11-08

生成成绩单

二年级1班 二年级2班

教师

关南学生二 徐二 李一 周武 陈康强 黄丹莹 王逸华 刘子怡 王明旺 黄晓峰 林欣怡 付了 梁双

胡志远 程建峰 朱恩瑞 李成林 刘工 高俊杰 吴松文 李成林 李成林

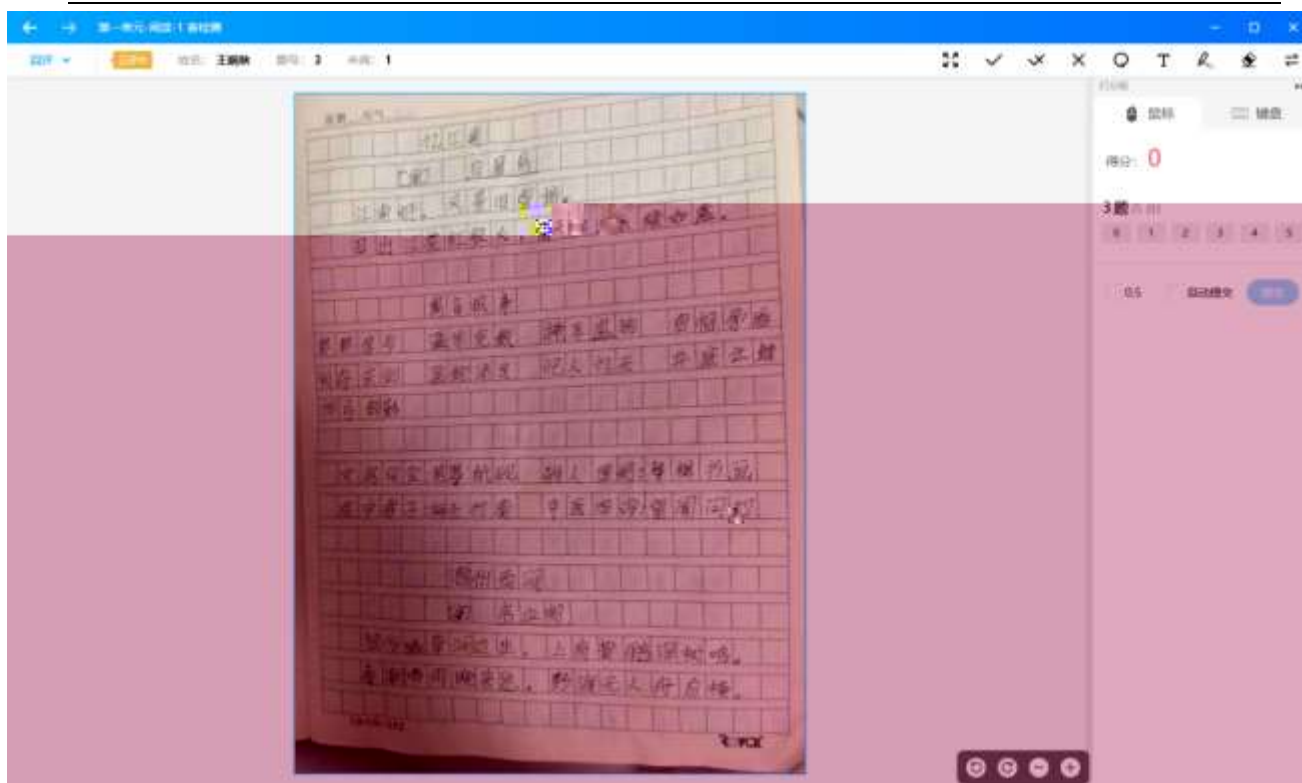
在线考试试卷191108101608

2019-11-08

生成成绩单

总分: 0 0%

正确数: 0



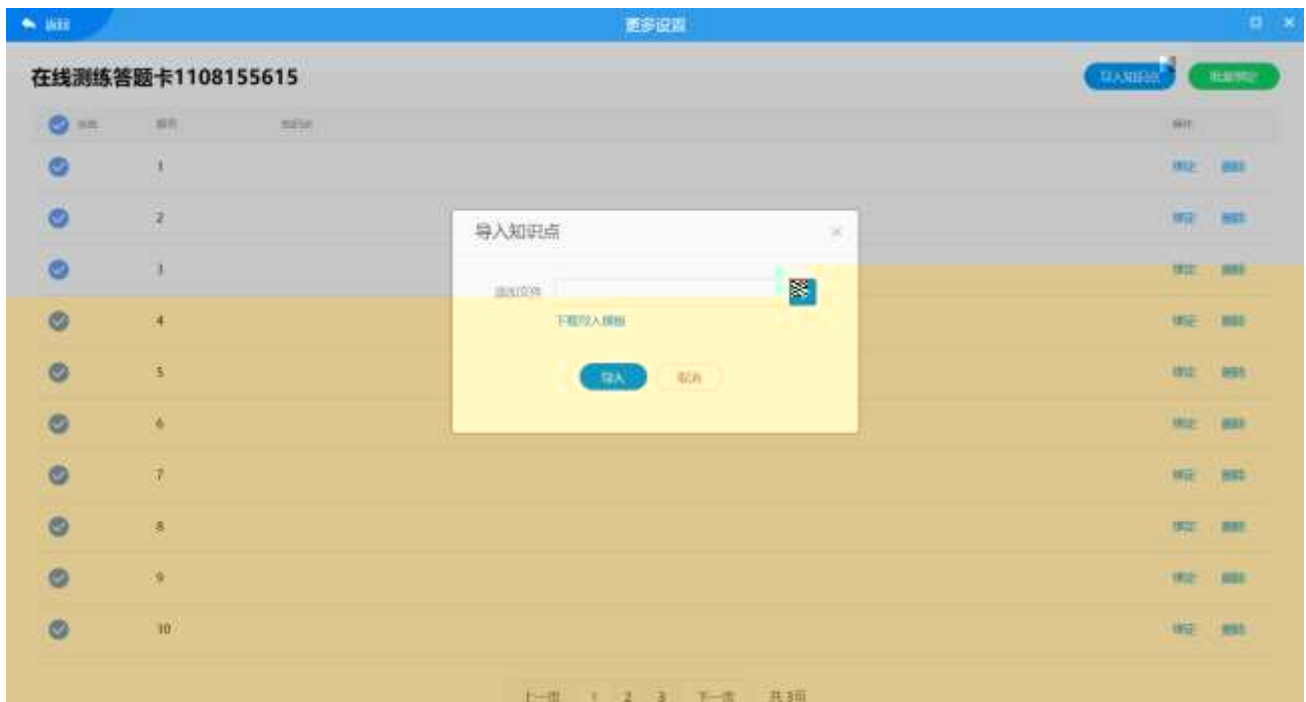
3.7.3.1.3



3.7.3.1.3.1



3.7.3.1.3.2



3.7.3.1.3.3

更多设置

单选题 10(张, 40分)

多选题 11(张, 22分)

填空题 14(张, 70分)

解答题 11(张, 55分)

语文作文 50分

单选题总分: 24 平均分: 2.4

批量设置分值 清除设置答案

序号	题型/题号	选项	分值
1	1	A B C D	2
2	2	A B C D	2
7	7	A B C D	5
8	8	A B C D	5
9	9	A B C D	5
10	10	A B C D	5

11: < >

确认

3.7.3.1.3.4

更多设置

在线训练答题卡1108155615

本试卷共有21道题目, 客观题17道, 共65分; 主观题4道, 共40分

总分 105

全部班级

二年级6班

二年级1班

导出Excel



姓名	学号	班级	总分	K1	K2	K3	K4	K5	K6	K7	K8	K9	K10	K11	K12	K13	K14
周云蔚		二年级6班	0	0	0	0	0	0	0	0	0	0	0	0	0	0	0
周盛		二年级6班	0	0	0	0	0	0	0	0	0	0	0	0	0	0	0
黄馨予		二年级6班	0	0	0	0	0	0	0	0	0	0	0	0	0	0	0
黄百行		二年级6班	0	0	0	0	0	0	0	0	0	0	0	0	0	0	0
王子旺		二年级6班	0	0	0	0	0	0	0	0	0	0	0	0	0	0	0
王铭隆		二年级6班	0	0	0	0	0	0	0	0	0	0	0	0	0	0	0
程仕成		二年级6班	0	0	0	0	0	0	0	0	0	0	0	0	0	0	0
潘航飞		二年级6班	0	0	0	0	0	0	0	0	0	0	0	0	0	0	0

1 2 3 4 5

3.7.3.1.4

3.7.3.1.5


我的试卷 我的答题卡 **刷题记录** 学情分析

2019-11-05  — 2019-11-12 

在线


初中数学2-1112

二年级6班... 王雨晴 2019-11-12 10:52

查看报告 

← 返回 查看详情

2019-2020学年度六年级数学9月试卷 教师 六年级(1)班

 学情汇总


学情概况


时长分布


成绩分布

未过成绩







知识点对应

 错题分析

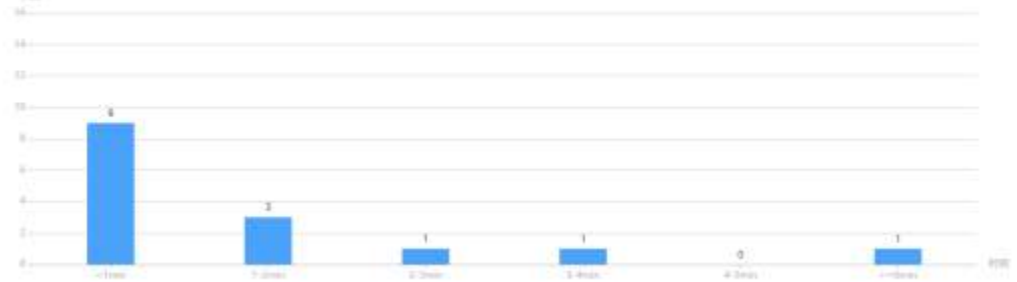
 统计报表

 成绩单

学情概况

					
16.8	20	46.67%	93.34%	0'1"	100%
班级平均分	班级最高分	班级优秀率	班级及格率	平均完成时间	完成率

时长分布



成绩分布

3.7.4

教学助手

教材资源 课的辅导 同步备课 互动课堂 智能检测 课后作业

陈芳 2020

我的试卷 我的题库 我的检测 学情分析 我的题库

近1个月 三年级(2)班...

没有数据，请切换班级，时间等选项试试！

知识点分析

知识点	人数	知识点掌握情况
长方形面积	4.22%	40%
长方体和正方体的认识	49.15%	33.4%
应用题	0.72%	29.24%
集合的基本概念	5.15%	85.38%
集合的基本运算	14.88%	87.7%
集合的表示	1.72%	100%

学情分析报告

2019-2020学年度常态化题库10月试卷

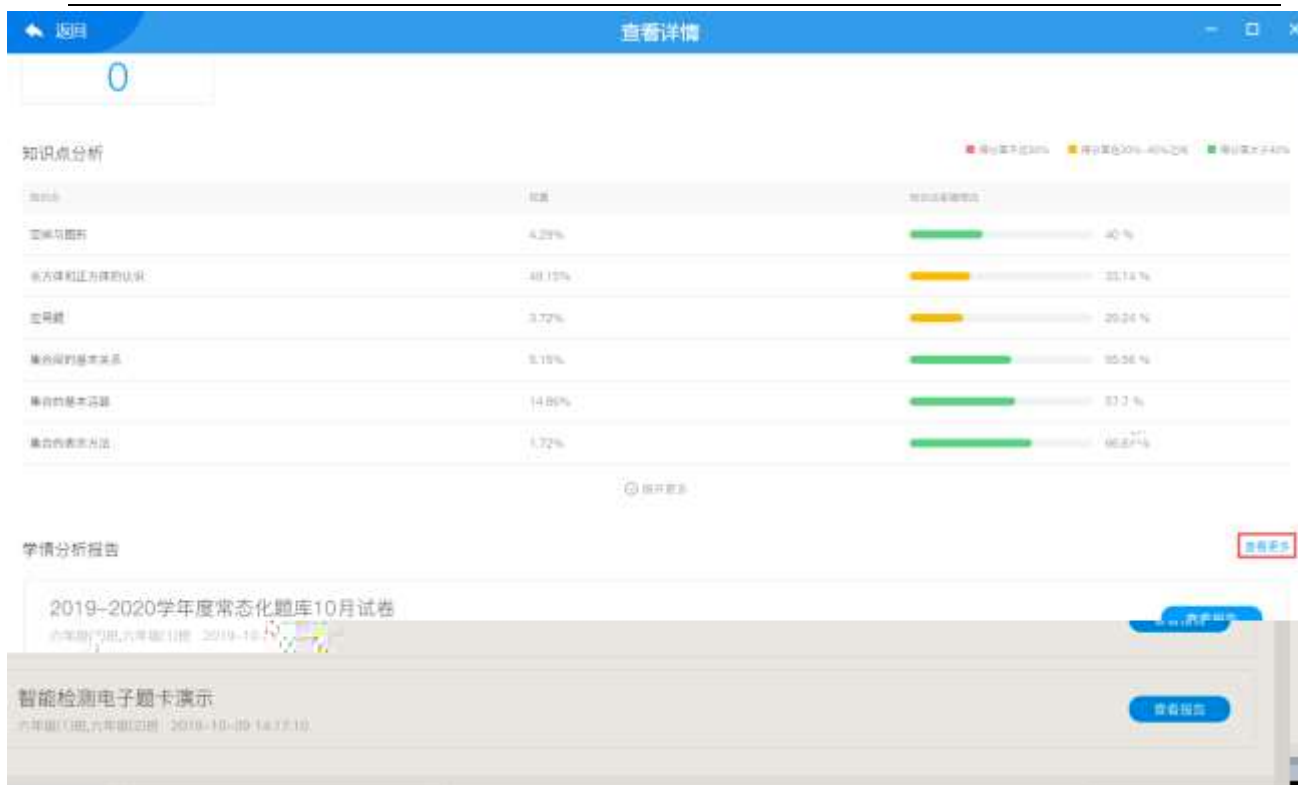
10月10日 10:00-11:00 2019-10-10 10:00-11:00

查看报告

智能检测电子答题卡演示

10月10日 10:00-11:00 2019-10-10 10:00-11:00

查看报告



返回 查看详情

报告列表

全部类型 2019-05-12 2019-11-30

在线	2019-2020学年度常态化题库10月试卷 六年级(上册),六年级(上册) · 2019-10-10	查看报告
网	数学演练 六年级(上册),六年级(上册) · 2019-10-10	查看报告
网	数学演练网阅 六年级(上册),六年级(上册) · 2019-10-10	查看报告
网	点阵笔试卷演示01 六年级(上册) · 2019-10-14	查看报告
网	点阵笔试卷 六年级(上册) · 2019-10-13	查看报告

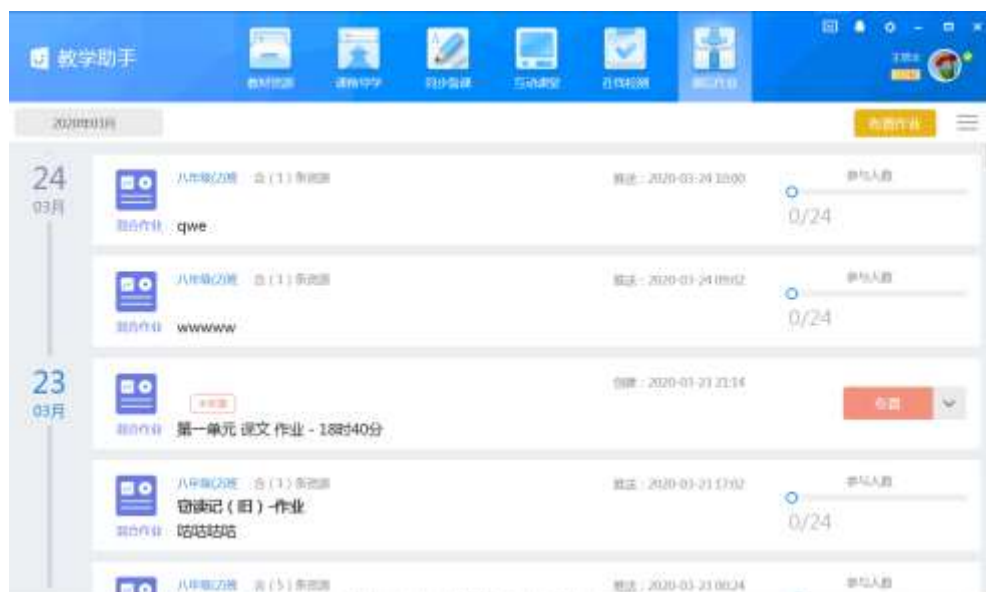
首页 上一页 1 2 下一页 尾页 共2页

3.7.5

3.7.5.1

3.7.5.2

3.8



3.8.1

3.8.2

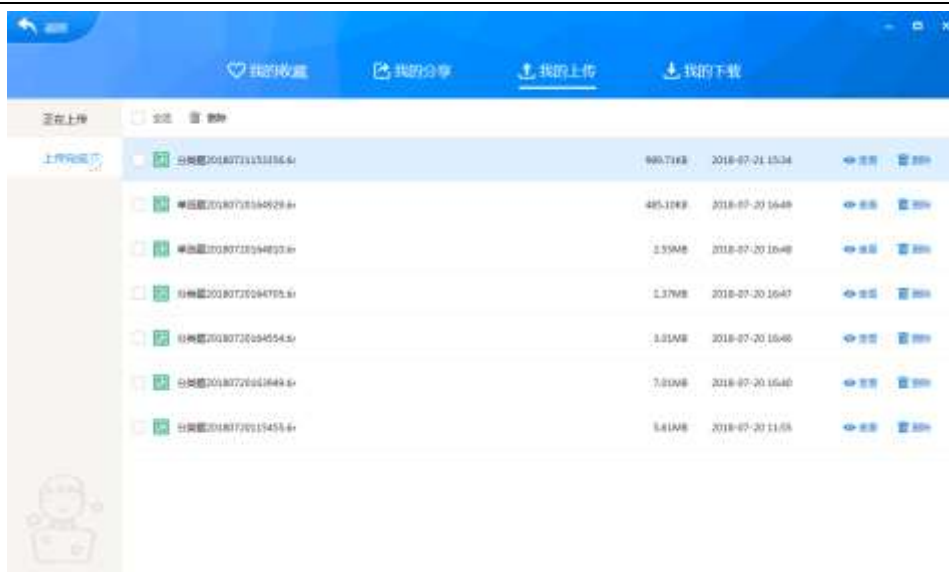
3.8.3

3.9



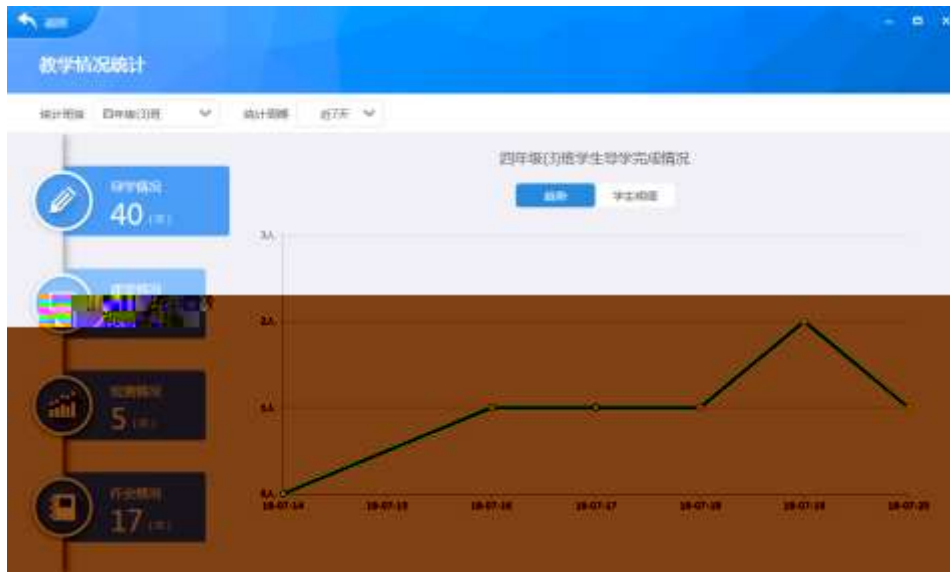
3.9.2





3.9.4

3.9.5



3.10



3.1

4



4.1



4.1.1



4.1.1.1



4.1.1.1.2

4.1.1.1.3

4.1.1.2

4.1.1.2.1



4.1.2.1

4.1.2.2

4.1.2.2.1

4.1.2.2.2



4.1.2.2.3

4.1.2.3




4.1.2.3.1



The screenshot shows a mobile application interface for assigning homework. At the top, there is a status bar with signal strength, carrier name (中国移动), time (9:41 AM), and battery level (100%). Below the status bar is a blue header with a back arrow and the title '课后作业'. The form consists of several sections: 1. '所属章节' (Chapter) with a dropdown menu and a '请选择' (Please select) prompt. 2. A button labeled '导入历史记录' (Import history records). 3. '作业标题' (Homework title) with a text input field and a '请输入' (Please enter) prompt. 4. '作业内容' (Homework content) with a text input field and a '请输入' (Please enter) prompt. 5. A '学习资源' (Learning resources) section containing a '资源' (Resource) label and a paperclip icon. 6. '习题' (Exercises) with a dropdown menu and a '请选择' (Please select) prompt. 7. '发送班级' (Send to class) with a dropdown menu and a '请选择' (Please select) prompt. 8. '需要学生提交作业' (Need students to submit homework) with a toggle switch currently turned off. 9. '作业发送时间' (Homework send time) with a dropdown menu and a '立即发送' (Send immediately) prompt. At the bottom, there are two buttons: a blue '布置' (Assign) button and a white '保存' (Save) button.

4.1.2.3.2



4.1.2.3.3

4.1.2.3.4

4.1.2.3.5

4.1.2.4

4.1.2.4.3

链接 *	
请输入或粘贴链接的地址	
标题 *	
请输入名称	>
设置标签	
通过标签给资源进行分类	>
资源类别 *	请选择 >

4.1.2.4.4

4.1.2.4.5

中国移动 9:41 AM 100%

< 返回 图文识别

2018—2019学年第一学期联片期末考试 

七年级 语文

(满分120分, 答题时间120分钟)

一、语言积累与运用 (36分)

1. 根据拼音在下面语段的横线上写出相应的汉字。(2分)
 书法艺术的历史 yuán () 远流长, 一直可以追
 sù () 到文字产生的时候。晋代书法家王羲之的行书作品
 《兰亭集序》具有 xiāo () 洒流利, 优美动人的无穷
 mèi () 力, 被誉为“天下第一行书”。

2. 下列加点字的注音完全正确的一项是 () (3分)

A 应声 (yīng) 组别 (zǔbié) 副职 (fùzhí) 人迹罕至 (hǎnzì)



保存为Word

导学内容

标题 *

解方程 - 课前导学

内容

请输入

学习资源

资源



习题

请选择 >



其它选项

发送班级 * 请选择 >

学生提交

提交形式 * 不限 >

截止时间 * 06/06 20:00 >

学生互查

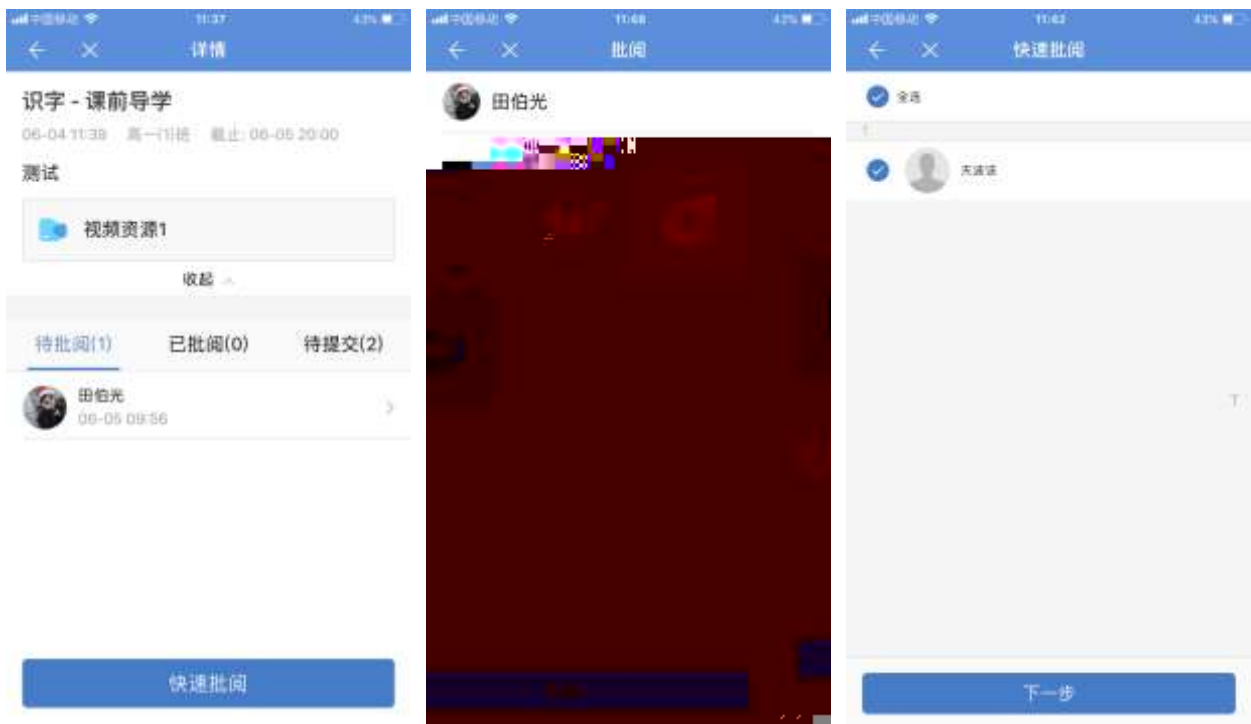
修改截止时间 立即发送 >


4.2.2



4.2.2.1

4.2.2.1.1






4.2.2.1.1



4.3



4.4.1.1





4.4

4.4.1



教材章节

选择教材 * 小学数学人教课标版五... >

所属章节 * 解方程 >

练习内容

标题 * 解方程 - 课后练习

内容 *

请输入

学习资源

资源



选择资源

从教材资源中选择

从相册中选择

录制音频资源

取消

其它选项

发送班级 * 请选择 >

学生提交

提交形式 * 不限 >

截止时间 * 06/06 20:00 >


学生互查

修改截止时间 立即发送 >

4.4.2



4.4.2.1



发送提醒

4.4.3





4.4.4

